

Kopieringsunderlag 32a: Från millimeter till kilometer

1. Skriv de tal som saknas.

a. 60 cm + _____ = 1 m

b. 25 cm + _____ = 1 m

c. 97 cm + _____ = 1 m

d. 2 dm + _____ = 1 m

e. 7 dm + _____ = 1 m

f. 0,4 m + _____ = 1 m

g. 0,8 m + _____ = 1 m

h. 200 mm + _____ = 1 m

i. 550 mm + _____ = 1 m

j. 80 cm + _____ = 1 m

2. Skriv de tal som saknas.

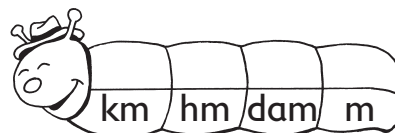
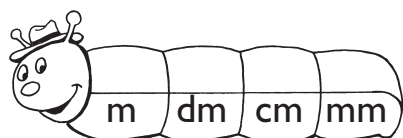

a. 200 m + _____ = 1 km

b. 650 m + _____ = 1 km

c. 50 m + _____ = 1 km

d. 0,8 km + _____ = 1 km

e. 0,15 km + _____ = 1 km



3. Skriv som meter.

a. 140 cm = _____ m

b. 500 cm = _____ m

c. 43 cm = _____ m

d. 8 m 60 cm = _____ m

e. 6 m 25 cm = _____ m

f. 8 km = _____ m

g. 7 km = _____ m

h. 5,6 km = _____ m

i. 0,8 km = _____ m

j. 7,04 km = _____ m

4. Skriv som centimeter.

a. 1,24 m = _____ cm

b. 5,07 m = _____ cm

c. 6,2 m = _____ cm

d. 2 m 50 cm = _____ cm

e. 1 m 8 cm = _____ cm

f. 6 m 9 cm = _____ cm

5. Skriv som kilometer.

a. 5200 m = _____ km

b. 8700 m = _____ km

c. 900 m = _____ km

d. 2 km 750 m = _____ km

e. 4 km 90 m = _____ km

f. 65 m = _____ km